

Como se le un mapa

Nome _____

Data _____



Lembra

- A lenda recolle o significado dos signos que se utilizan no mapa. Estes signos poden estar representados mediante cores e/ou símbolos.

1. Relaciona os símbolos co seu significado.

Autoestrada ou autovía	+++	Porto	
Estrada secundaria		Encoro	
Ferrocarril	==	Río	
Aeroporto	===	Pico	

2. Colorea o mapa coa axuda da lenda.

VERTENTES HIDROGRÁFICAS

Laranxa	Mediterránea
Verde	Cantábrica
Azul	Atlántica

3. Colorea o mapa coa axuda da lenda e responde.

- Cales son as Comunidades Autónomas máis poboadas de España?

.....

.....

.....

.....

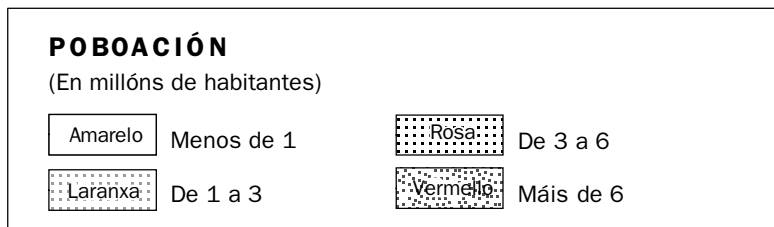
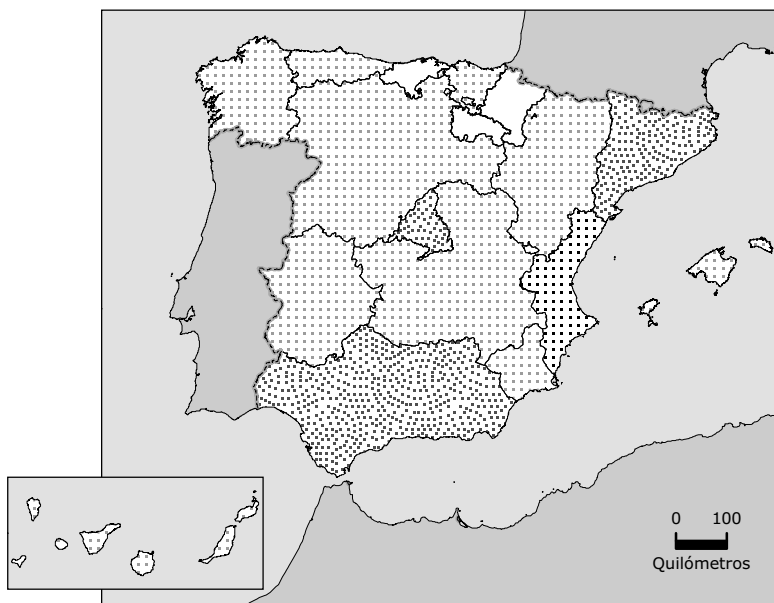
- E as menos poboadas?

.....

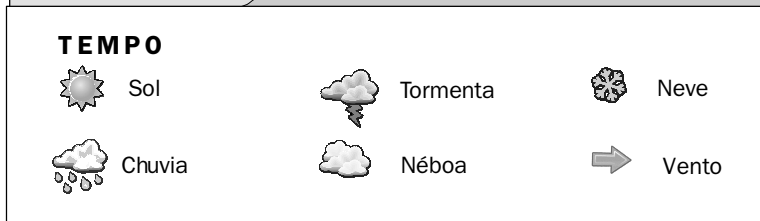
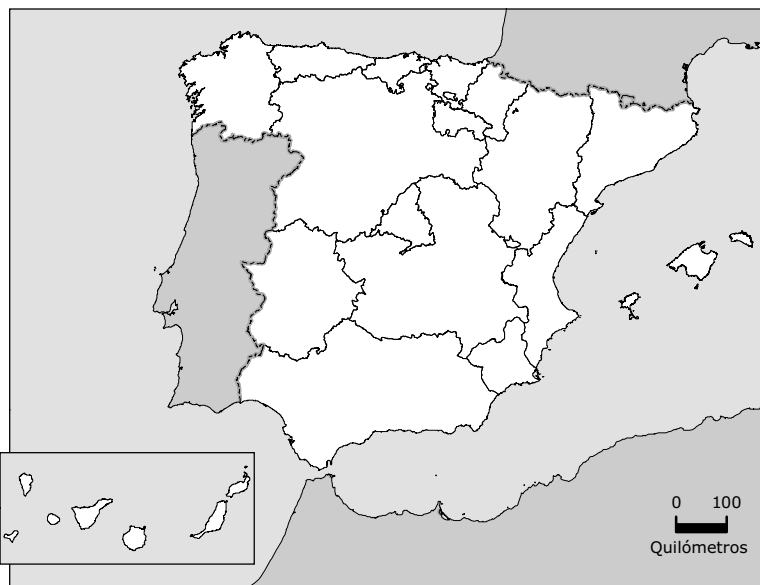
.....

.....

.....



4. Observa a lenda e elabora o mapa do tempo segundo o prognóstico meteorolóxico.



Prognóstico meteorolóxico

Agárdase a entrada dunha fonte fría polo Cantábrico que traerá **chuvia** a Galicia e ao Principado de Asturias. Isto causará un descenso das temperaturas e a aparición das primeiras **neves** no norte de Aragón e de Cataluña.

Na C. F. de Navarra e País Vasco agárdanse bancos de **néboa**.

Pódense formar **tormentas** en Castela e León, C. de Madrid, Castela-A Mancha e Estremadura.

No sur de Andalucía, a Comunidade Valenciana, R. de Murcia, Illas Baleares e Canarias agárdase un anticiclón, polo que brillará o **sol**.

Os **ventos** soprarán na costa oeste de Andalucía.